

平成31年度

目黒日本大学中学校

入学試験問題

社 会

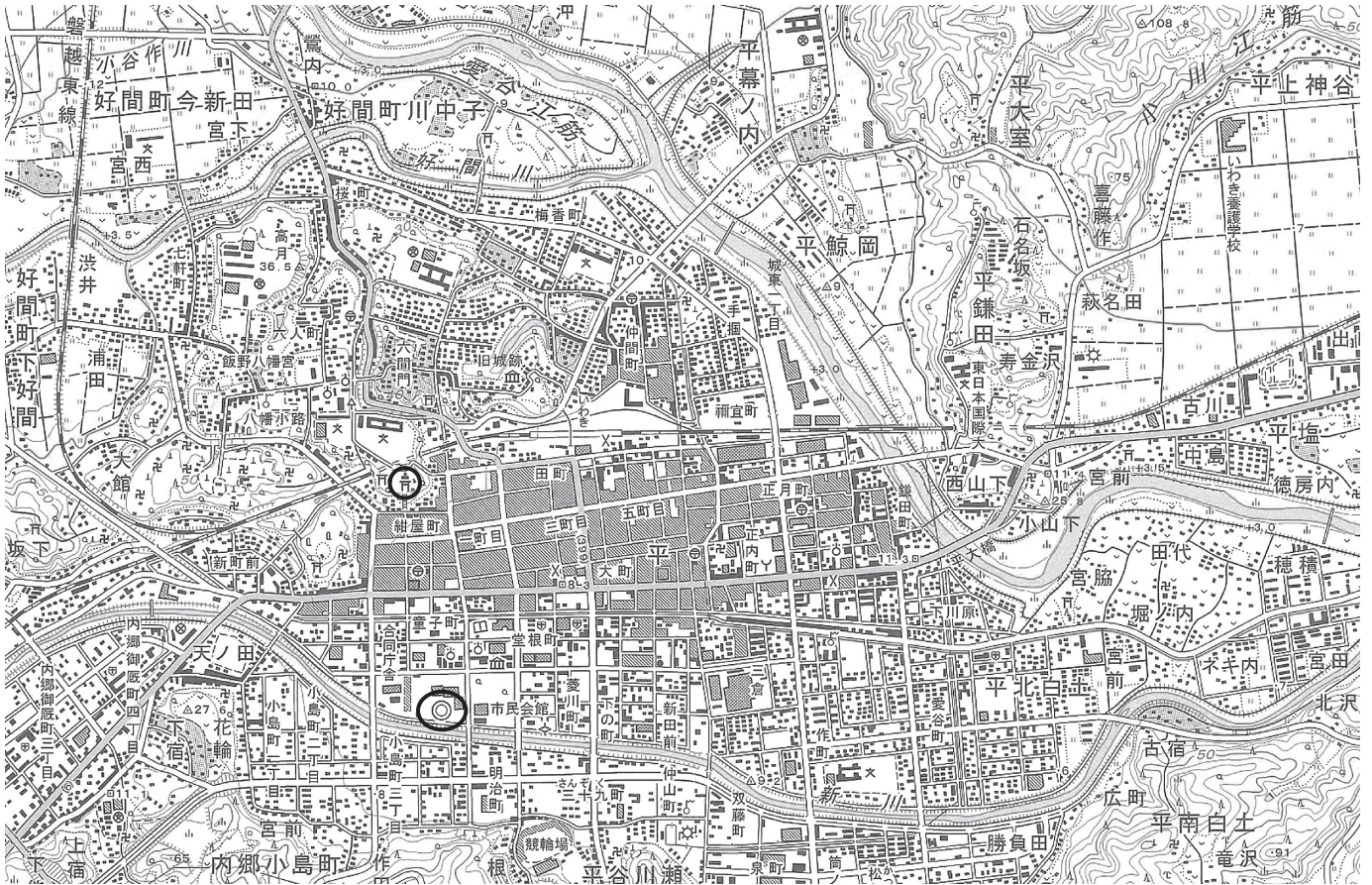
試験時間 30分

注意事項

- 試験開始の合図があるまで、この問題冊子の中を見てはいけません。
- この問題冊子は、全9ページあります。
- 解答用紙は、問題冊子の中にはさんであります。試験開始の合図がありましたら、解答用紙を取り出してください。
- 解答はすべて解答用紙の決められた欄らんに記入してください。
- 試験中に質問がある場合は、手を挙げて監督者かんとくに知らせてください。
- 試験終了後、監督者かんとくの指示にしたがって問題冊子と解答用紙を提出してください。
- 問題冊子および解答用紙に、受験番号・氏名を記入してください。

受験番号	氏 名

1 次の縮尺2万5千分の1の地形図と説明文に関して、あとの問いに答えなさい。



(平成18年国土地理院発行 1:25000地形図「平」)

この地形図は福島県いわき市の中心部を示しています。いわき市は福島県の太平洋沿岸部にある都市です。福島県内では人口が最も多く、化学・電気機器・食料品などの工業が発達しています。

福島県ではかつて①石炭の採掘がさかんに行われ、工業も発達してきました。現在では、高速道路など交通の便が良くなったことを生かし、電子部品・電気機械・②集積回路などの生産が多くなっています。

福島県はいわき市のある沿岸部の「浜通り」、③山脈と阿武隈高地にはさまれた「中通り」、さらに内陸部の「会津」に分けられます。農業は各地で④稲作がさかんなほか、「中通り」の盆地では、⑤ももやりんごなど果物の栽培が行われています。漁業では、いわしやさんまなどの漁獲量が多くなっています。

問 1 地図中の「紺屋町」にある神社から市役所までは、地図上では3 cmある。実際の距離は何mになるか答えなさい。

問 2 この地図からわかることとして正しくないものを次から 1 つ選び、記号で答えなさい。

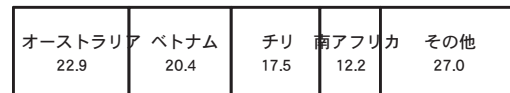
- ア 地図中の北西から南東に向けて流れる川の両岸には、畑や荒地が広がる。
- イ 地図の北東部にある「平鎌田」は、水田が広がる周りの土地より標高が高く、電波塔が設置されている。
- ウ 「いわき」駅の北西にある「高月」では、高等学校の周りに広葉樹林が見られる。
- エ 「いわき」駅の南側は市民会館や図書館、裁判所などの施設が集中している。

問 3 下線部①について、日本の石炭のおもな輸入先を示したグラフを次から 1 つ選び、記号で答えなさい。

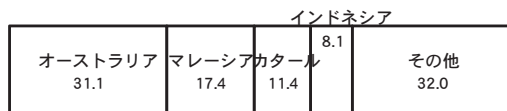
ア



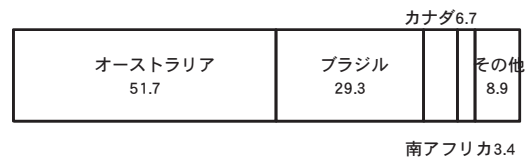
イ



ウ



エ



(『日本国勢図会2018/19』より)

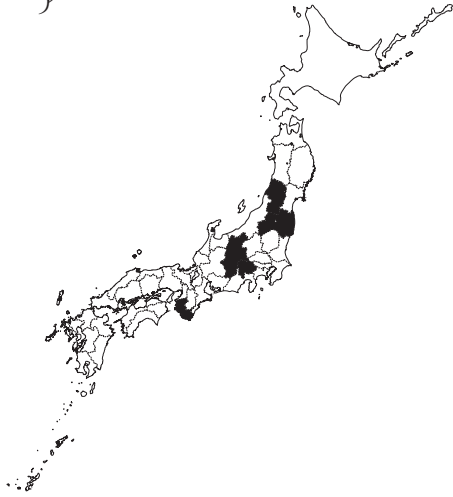
問 4 下線部②について、製造された集積回路の輸送には航空機が使われることも多くあります。これは、集積回路がどのような特徴をもった製品だからですか、説明しなさい。

問 5 ③ にあてはまる地名を答えなさい。

問 6 下線部④について、全国の米の生産量を調整するための政策が2017年度まで行われていました。この政策のことを一般に何というか、漢字で答えなさい。

問 7 下線部⑤について、ももの生産額が全国 5 位までの都道府県を示したものを次から 1 つ選び、記号で答えなさい。

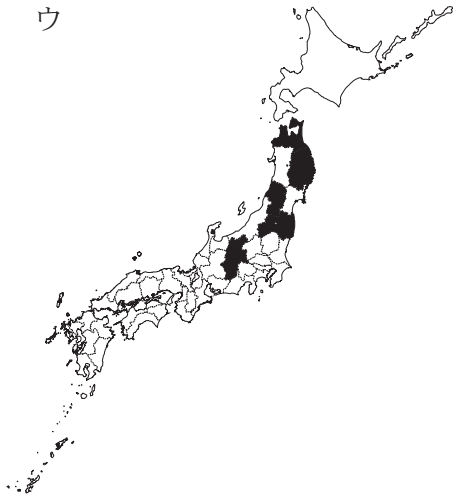
ア



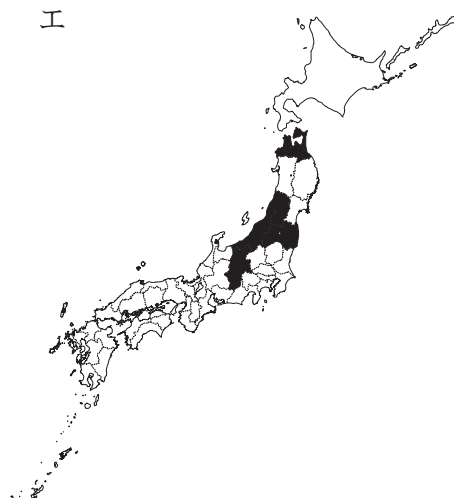
イ



ウ



エ



2 次の文章を読んで、あとの問いに答えなさい。

①天武天皇や持統天皇のころにつくられた富本銭は、わが国で最古の貨幣だと考えられています。その後、708年には②新しい貨幣がつくられ、都とその周辺で使われるようになりました。

③平安時代の終わりごろになると、(1) によって④日宋貿易が行われ、鎌倉時代ごろに開かれるようになった⑤定期市で取引に使われるようになりました。

室町時代には、3代将軍であった(2) が日明貿易を開始し、正式な貿易船は⑥勘合という割り札を使用していました。この貿易でも銅銭が輸入され、国内で使用されていました。室町時代後期には、世界文化遺産に登録されている(3) 銀山の生産量が最盛期を迎えていました。

⑦江戸時代には、大判や小判などの金の貨幣だけでなく、銀や銅銭など、多様な貨幣も使われていましたが、貨幣を交換するしくみは複雑なため、(4) 商とよばれる専門の業者が活躍しました。

明治時代になると、通貨の基本単位は⑧円とすることが定められました。

問 1 (1) ~ (4) にあてはまる人物やことばを漢字で答えなさい。

問 2 下線部①について、このころの説明としてふさわしいものを次から1つ選び、記号で答えなさい。

- ア 藤原京は、唐の都の長安を手本にして、東西方向と南北方向に碁ばん目状の道が作られていた。
- イ 大友皇子は、父の兄である大海人皇子と壬申の乱で戦い、勝利したあと天智天皇として即位した。
- ウ 蘇我氏が滅んだことにより、家柄や身分によって役職を決める冠位十二階が定められた。
- エ 防人の歌や、白河上皇や藤原道長の歌などがおさめられている万葉集が編さんされた。

問 3 下線部②の貨幣としてふさわしいものを次から1つ選び、記号で答えなさい。



問 4 下線部③について、以下の問いに答えなさい。

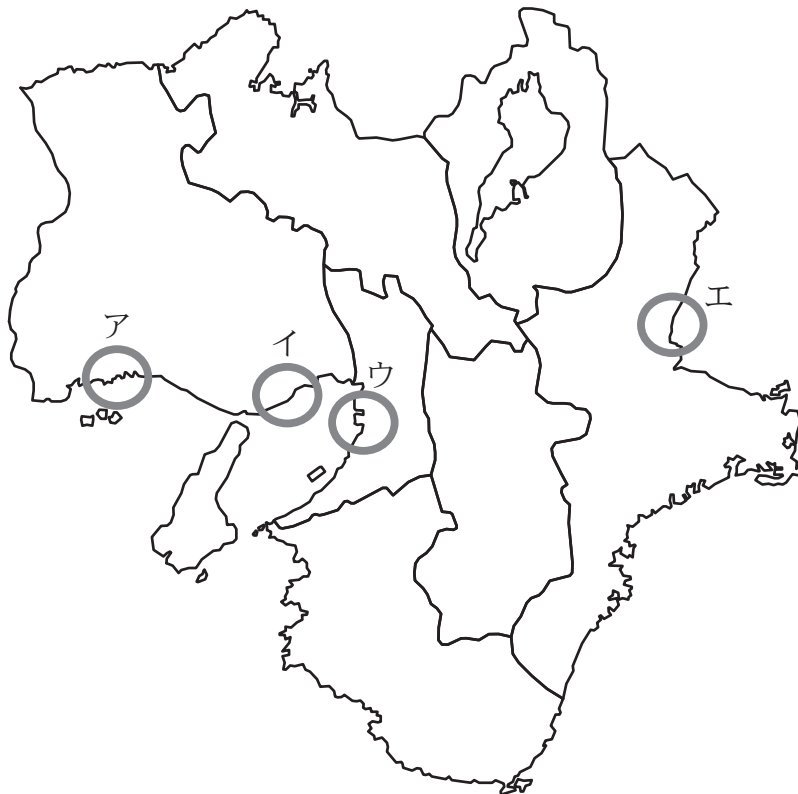
(1) 平安時代初め、遣唐使にしたがって唐へわたった僧によって、新しい仏教が日本にもたらされました。この新しい仏教をもたらした僧と、僧が開いた寺院の組み合わせとしてふさわしいものを次から1つ選び、記号で答えなさい。

- ア 法然－永平寺 イ 最澄－石山本願寺
ウ 道元－飛鳥寺 エ 空海－金剛峯寺

(2) 平安時代の半ば、東北地方でおこった争いの後、藤原清衡が現在の岩手県にある平泉を中心にした大きな勢力をもつようになりました。この争いの名を次から1つ選び、記号で答えなさい。

- ア 保元の乱 イ 平治の乱 ウ 後三年の役 エ 弘安の役

問 5 下線部④について、貿易港があった大輪田泊の場所を次から1つ選び、記号で答えなさい。



問 6 下線部⑤について、商品を販売した商工業者がつくっていた同業者の組合のことを何と
いうか、漢字で答えなさい。

問 7 下線部⑥について、正式な貿易船が勘合という割り札を使用した理由を説明しなさい。

問 8 下線部⑦について、次の江戸時代の史料を年代の古い順に並べ替えなさい。

- ア 第4条 日本の輸入・輸出の品物は、別冊に決められた税率で、日本の役所へ関税を納めることとする。
- 第6条 日本人に対して法をおかしたアメリカ人は、アメリカ領事裁判所で取り調べ、アメリカの法律で罰することとする。アメリカ人に対して法をおかした日本人は、日本の役人が取り調べ、日本のきまりで罰することとする。
- イ 一、大名は、文武弓道の道をひたすら努力せよ。文よりも武を優先させるのは古い考えであるので、この両方をお互いにかねそなえなければならない。
- 一、城を修理するだけでも、必ず願い出よ。ましてや、新しく城をつくってはいけない。
- 一、許可なくひそかに結婚してはならない。
- ウ 第1条 日本とアメリカ合衆国は、その人民が永久に変わらず仲よくし、場所や人の差別をしないこと。
- 第4条 まき・水・食料・石炭を求めてアメリカ船が、伊豆の下田と松前の函館の2つの港に寄ることを、日本はアメリカに許可する。
- エ 一、飼い主のいない犬に、このごろは食べ物をあたえていないと報告されている。食べ物をあたえると、その人の犬のようになってめんどうになると考え、食べ物をあたえないようである。こういう良くないことは、今後しないようにすること。
- 一、犬だけではなく、すべての生きているものを、慈悲の心をもってあわれむこと。

問 9 下線部⑧についての以下の文章を読み、この文章の説明としてふさわしいものを次から1つ選び、記号で答えなさい。

明治の初めころから、通貨の単位として円・銭・厘が使われるようになりました。円の100分の1を銭、銭の10分の1を厘としていました。明治の後半から日中戦争のころまで、はがきの郵便料金が1銭5厘だったことから、銭・厘が日本の社会で広く使われていたことがわかります。

その後、物価の値上がりなどもあり、1953年に制定された「小額通貨の整理及び支払金の端数計算に関する法律」によって、明治以降使用され続けてきた銭・厘は発行が停止され、通用力も失いました。1円未満の紙幣や貨幣は、通貨として使用できませんが、銭と厘は「1円未満の金額の計算単位」として今でも使われているのです。

- ア 太平洋戦争中の金属の不足から、銭・厘は使用できなくなった。
- イ 日中戦争のころまで、はがきの郵便料金は0.15円だった。
- ウ 大正時代に銭・厘は発行が停止され、通用力も失った。
- エ 現在、利息や外国為替の計算などに、銭・厘が使用されることもある。

3 次の文章を読んで、あとの問いに答えなさい。

「国際化」や「グローバル化」といった言葉を耳にするようになってからずいぶん経ちました。今後、ますます日本と世界との関わりが深くなっていくでしょう。

国家間のレベルでは、①国際連合での日本の役割も重要性を増しており、②開発途上国に支援を行うなどの国際貢献も積極的に行っています。また、2018年3月には日本を含む11カ国によって、TPP（環太平洋パートナーシップに関する包括的及び先進的な協定）の③調印式がチリのサンティアゴで行われました。この協定は、国と国の約束ごとである条約と同じように、内閣が結び、国会が承認します。④この協定に調印した国の間で、より一層、貿易がさかんになることが期待されています。

一方、人と人との交流という視点でみると、⑤日本を訪れる外国人旅行者は年々増え、5年連続で過去最高を更新しています。（1）省観光庁の観光白書（平成30年版）によると、⑥2017年の訪日外国人旅行者約2869万人のうち、約25%は東アジア以外からの旅行者です。東アジア以外の訪日外国人を国別にみると、もっとも多いのはアメリカからの旅行者で、全体の約5%にあたる137万人が訪れています。東南アジアからも全体の約10%にあたる292万人が日本を訪れています。

2020年に東京で開催されるオリンピックと、障がいのあるトップアスリートが競技をおこなう（2）では、多くの人々が日本を訪れることでしょう。

問1 （1）（2）にあてはまることばを答えなさい。

問2 下線部①について、以下の問いに答えなさい。

(1) 本部はどこにありますか。国名と都市名を答えなさい。

(2) 国際連合の説明としてふさわしくないものを次から1つ選び、記号で答えなさい。

ア 国際連合に加盟する国の分担金の負担は、日本は中国・インド・アメリカに次いで世界第4位である。

イ 世界の平和および安全の維持を目的とすることが、国際連合憲章に記されている。

ウ 1945年に原加盟国51カ国で発足したが、日本が国際連合に加盟したのは、1956年の日ソ共同宣言によって、ソ連との国交正常化を果たした直後である。

エ 重要な理事会の1つである安全保障理事会は、常任理事国と非常任理事国あわせて15カ国で構成されている。

問 3 下線部②について、日本は開発途上国にたいして、資金援助をおこなうだけでなく、青年海外協力隊のように、現地に人を派遣して知識や技術を伝えるという活動もしています。このような政府開発援助を意味するものを次から1つ選び、記号で答えなさい。

ア NGO イ ODA ウ PKO エ GDP

問 4 下線部③について、国会で条約や協定を承認する際、衆議院と参議院とで異なる議決となった場合の説明としてふさわしいものを次から1つ選び、記号で答えなさい。

- ア 衆議院・参議院どちらかが承認すれば、国会の承認となるが、衆議院から先に審議を始めることが憲法に定められている。
- イ 条約の公布は天皇の国事行為であるので、内閣の助言と承認のもと、条約を承認するかどうかを天皇が最終的に決めることが定められている。
- ウ 18歳以上に投票権が与えられる国民投票で、3分の2以上の賛成を得られれば、条約は承認されることが定められている。
- エ 両院協議会で意見が一致しないとき、または参議院が30日以内に議決しないときは、衆議院の議決を国会の議決とすることが定められている。

問 5 下線部④について、この協定に調印していない国を次から2つ選び、記号で答えなさい。

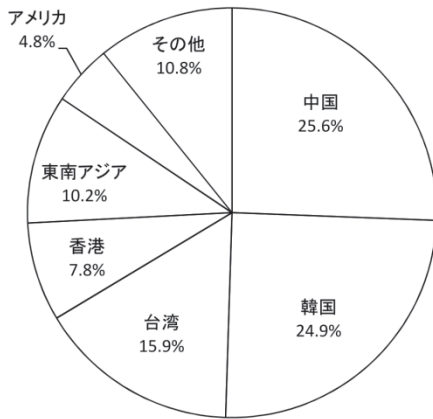
ア 日本 イ オーストラリア ウ ベトナム エ アメリカ
オ カナダ カ イタリア キ メキシコ ク マレーシア

問 6 下線部⑤について、訪日外国人旅行者という意味で使われるものを次から1つ選び、記号で答えなさい。

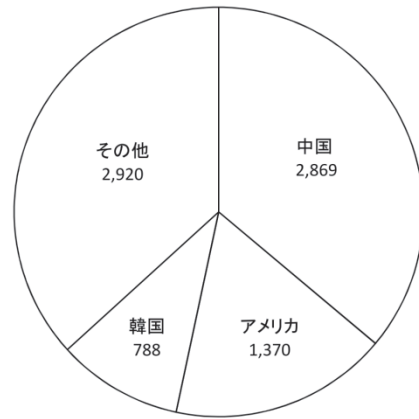
ア メディアリテラシー イ インバウンド
ウ ハザードマップ エ トレーサビリティ

問 7 下線部⑥についてのグラフとしてふさわしいものを次から1つ選び、記号で答えなさい。

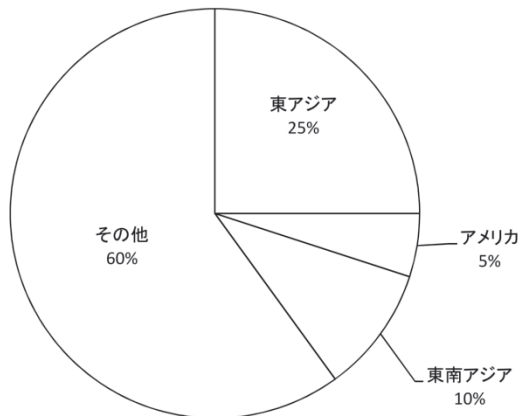
ア



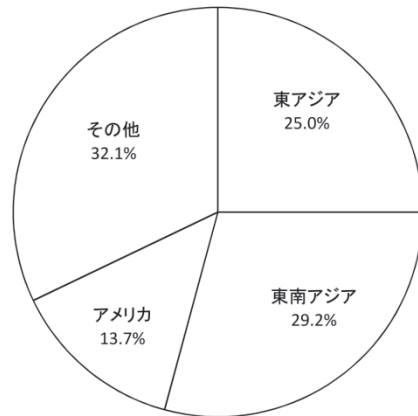
イ



ウ



エ



以下余白

