

令和2年度

目黒日本大学中学校

入学試験問題

社 会

試験時間 30分

注意事項

- 試験開始の合図があるまで、この問題冊子の中を見てはいけません。
- この問題冊子は、全11ページあります。
- 解答用紙は、問題冊子の中にはさんであります。試験開始の合図がありましたら、解答用紙を取り出してください。
- 解答はすべて解答用紙の決められた欄らんに記入してください。
- 試験中に質問がある場合は、手を挙げて監督者かんとくしゃに知らせてください。
- 試験終了後、監督者の指示にしたがって問題冊子と解答用紙を提出してください。
- 問題冊子および解答用紙に、受験番号・氏名を記入してください。

受験番号	氏 名

1 次の地形図に関して、あとの問いに答えなさい。



(平成26年国土地理院発行 2万5千分の1地形図「萩」)

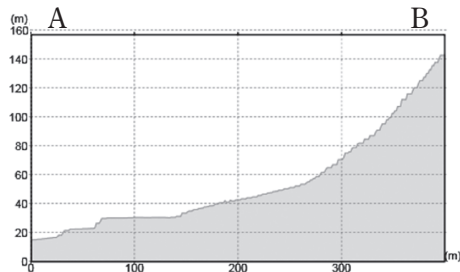
問1 「東萩駅」から見て、「市民館」はおよそどの方向にあるか、八方位で答えなさい。

問2 この地形図からわかることとして正しくないものを次から1つ選び、記号で答えなさい。

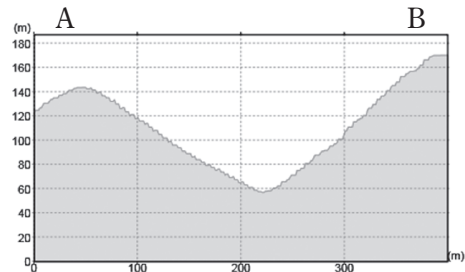
- ア 北部の鶴江台周辺には果樹園が広がっている。
- イ 阿武川をはさんで西の地区には建物が集中しており、特に寺院が多く見られる。
- ウ 旧萩藩校明倫館の付近には官公署や裁判所、博物館、図書館などの施設がある。
- エ 東萩駅から東には荒地が多く、さらにその先は標高が低くなっている。

問 3 地形図中の線ABの部分の断面図として、もっともふさわしいものを次から1つ選び、記号で答えなさい。

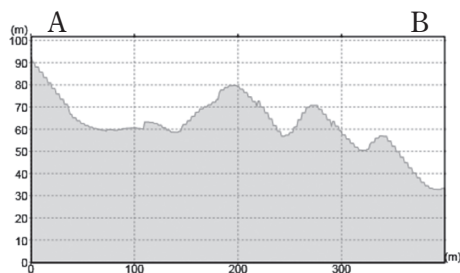
ア



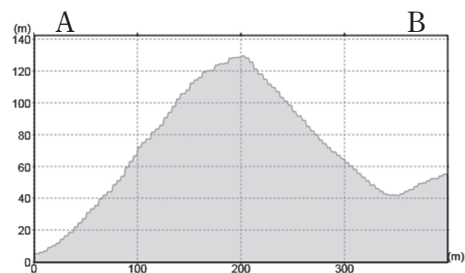
イ



ウ



エ



問 4 この都市の伝統工芸品は、古くから「一楽二萩三唐津」と呼ばれて高く評価されているが、その伝統工芸品としてふさわしいものを次から1つ選び、記号で答えなさい。

ア ぬもの しっき
塗り物 (漆器)イ 焼き物 とうじき
焼き物 (陶磁器)ウ そもの
染め物エ おりもの
織物

問 5 地形図にある都市が属する県の説明として正しいものを次から1つ選び、記号で答えなさい。

ア 南西部の海域では「かき」の養殖業がさかんで、その生産量は全国一となっている。

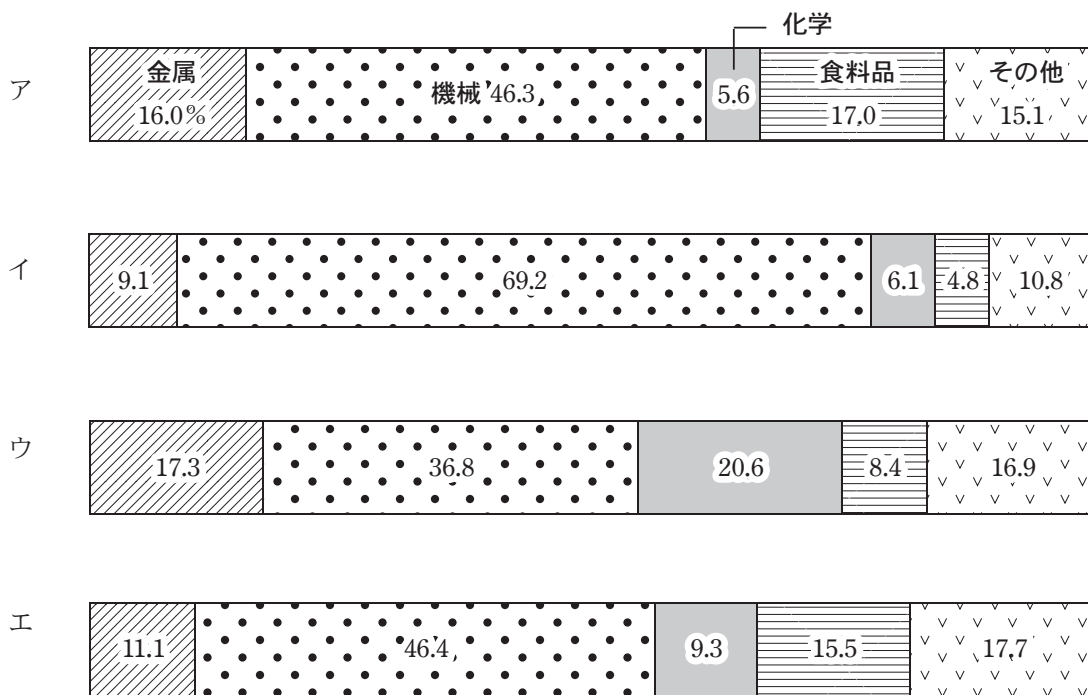
イ 出雲大社や石見銀山遺跡などの歴史的施設の他、しじみ漁がさかんな宍道湖が有名である。

ウ 関門トンネルなどで九州と結ばれており、歴代の首相8人の出身県で、その数は全国一である。

エ 西部には「伯耆富士」と呼ばれる大山があり、東部の海岸には日本最大級の砂丘がある。

問 6 地形図にある都市が属する県は、日本有数の工業地域に含まれているが、これについて以下の問いに答えなさい。

- (1) この県を含む日本有数の工業地域とはどこか、その名称を答えなさい。
- (2) この工業地域の生産額の割合を示したグラフを次から1つ選び、記号で答えなさい。



(『日本国勢図会2019/20』より)

2 次の歴史クラブの会話文を読んで、あとの問いに答えなさい。

部長：今日は、江戸時代中期の学者新井白石が書いた『読史余論』という書物を見てみよう。
この書物では最初にこんなことが書いてある。

一、本朝天下の大勢、九変して武家の代となり、武家の代また五変して当代におよぶ総論の事

部員 A：日本の支配者とか権力者が、9回代わって武士の時代になった。

さらに武家もまた5回代わって当代、つまり江戸時代になったってことかな。

部長：そうだね。じゃあ具体的に見てみよう。『神皇正統記』は室町時代に書かれたものだね。

神皇正統記に、光孝より上つかたは一向①上古なり。・・・五十六代清和、幼主にて、外祖良房、摂政す。これ、外戚専権のはじめ。〈一変〉基経、外舅の親によりて陽成を廃し光孝をたてしかば、天下の権、藤氏に歸す。・・・②藤氏の権、おのずから日日盛なり。〈二変〉十三代冷泉より・・・後冷泉、おおよそ八代百三年の間は、外戚、権をもっぱらにす。〈三変〉

部員 A：光孝天皇より前は上古、光孝天皇は9世紀だから、古代ってことになるかな。

部員 B：古代の権力者といえば、やっぱり天皇家に藤原氏だよな。

藤原氏は、藤原不比等の子孫の良房が摂政になったのをきっかけに力を伸ばしていったんだ。

部長：藤原氏は外戚といって、天皇の祖父として力を持つことで、摂政関白を独占して権力の頂点にいたことがわかるな。

後三条・Aの両朝は、政天子に出づ。〈四変〉堀河・・・③安徳・・・おおよそ九代九十七年の間は、④政上皇に出づ。〈五変〉

部員 A：後三条天皇は藤原氏との関係があまりなかったから、「政天子に出づ」は、天皇が表に立って政治をしたってことで、堀河天皇はAの子で、安徳天皇といえば平氏だね。

部員 B：そのあとの院政のころに、平氏と源氏の争いなんかもあったよね。

ここまですべて〈五変〉して、次は武士の時代だね。

武家は、源頼朝、幕府を開きて、・・・おおよそ三十三年。〈一変〉平義時、⑤承久の乱の後、天下の権をとる。そののち七代おおよそ百十二年、高時が代にいたりて滅ぶ。〈二変〉・・・後醍醐中興ののち、源尊氏反して天子蒙塵。

部長：やっぱり鎌倉幕府が武士の時代の最初だよな。北条氏が権力をにぎるようになって、承久の乱がおきたんだ。北条氏は高時という人のときに滅んだんだよ。

部員 B：そのあとに、後醍醐天皇が出てきて、建武の新政と呼ばれる政治をしたんだ。でも、足利尊氏と争うようになって、後醍醐天皇は京都から奈良の吉野へのがれたんだよ。

尊氏、・・・みずから幕府を開く。⑥子孫相継^{あいつぎ}て十二代におよぶ。おおよそ二百三十八年。〈三変〉・・・足利殿^{どの すえ}の末、織田家^{ほつこう}勃興して將軍を廢し、天子^{ほうい てんし}をはさみて天下に令せんと謀りしかど、・・・その臣光秀^{しんみつひで}に弑せらる。豊臣家、その故智^{こちもち}を用い、みずから関白となりて⑦天下の権をほしいままにせしこと、おおよそ十五年。〈四変〉そののち⑧ついに当代の世となる。〈五変〉

部長：次は室町時代だね。15代將軍までにあった出来事といえば、やっぱり応仁^{おうにん}の乱かな。

ほかには、金閣、銀閣が思いつくように文化の印象が強いかな。

部員 A：室町幕府は約200年も続いて、争いの多い時代なのに、現在にまで続く文化の基礎がつくられたんだね。

部員 B：そして、ようやく織田信長と豊臣秀吉が出てきたね。

織田信長によって室町幕府は滅亡したけど、その織田信長も本能寺^{ほんのうじ}の変で滅びたんだ。

部長：豊臣秀吉は武力だけじゃなく、関白や太政大臣^{たいじょうだいじん}となって朝廷^{ちやうてい}の権力も利用したよね。

顧問：そして、「ついに当代の世」、つまり徳川氏が支配する江戸時代になったんだ。

古い文章で難しく思ったかもしれないけれど、持っている知識でも十分理解できたね。

歴史の流れだけではなくて、使われている言葉にも注目すると、新井白石^{あらいはくせき}という人がどのように歴史を考えていたかも想像できてまた面白いかもしれないね。

問 1 史料中の下線部①について、日本古代の年表を参考にして、以下の問いに答えなさい。

年	日本の様子	時期
前1世紀頃	百余国に分立する。	A
57	奴国王が漢の皇帝に使いを送る。	
107	奴国王の帥升 ^{すいしょう} が漢の皇帝に奴隷を160人献上する。	
239	卑弥呼 ^ひ が魏に使いを送る。	B
478	倭王武が宋に使いを送る。	
592	蘇我氏が天皇を暗殺する。	
607	小野妹子が遣隋使として隋に派遣される。	C
701	大宝律令が完成する。	
710	平城京が都となる。	
794	平安京が都となる。	

(1) 年表中の時期 A の出来事として正しいものを次から 1 つ選び、記号で答えなさい。

- ア 土師器と呼ばれる土器のほか、須恵器という固い質の土器も使われるようになった。
- イ 古墳の出現期で、この時期につくられた前方後円墳のうち、大山古墳（仁徳天皇陵）を含む【資料 1】の百舌鳥古墳群や古市古墳群は、2019年に世界文化遺産に認定された。
- ウ 稲作が日本列島へ伝わると、生産性の高い土地や生産物をめぐる争いがあったことが、環濠集落・高地性集落などの発掘調査から推測されている。
- エ 中国や朝鮮半島からの渡来人によって、仏教が伝えられた。

【資料1】



(GoogleMapより作成)

(2) 年表中の時期 B の出来事として正しいものを次から 1 つ選び、記号で答えなさい。

- ア 蘇我氏を滅ぼした中大兄皇子らは、「改新の詔」により政治の基本方針をしめた。
- イ 飛鳥寺や法隆寺が建てられ数多くの仏像がつけられたほか、平かなや片かながつくれるなど国風文化が栄えた。
- ウ 推古天皇が女性で初めて天皇となった。
- エ 『古事記』、『日本書紀』が完成した。

(3) 年表中の時期 C の出来事〈1〉～〈4〉に関して、年代の古い順に正しく並べたものを次から1つ選び、記号で答えなさい。

- 〈1〉 墾田永年私財法こんでんえいねんしざいほうにより土地の私有が認められた。
 〈2〉 和同開珎わどうかいちんがつくられた。
 〈3〉 鑑真かんじんが来日し、仏教のあるべき姿を伝えた。
 〈4〉 中国から帰国した空海が真言宗、最澄が天台宗をそれぞれ広めた。

- ア 〈1〉 → 〈3〉 → 〈4〉 → 〈2〉 イ 〈3〉 → 〈1〉 → 〈4〉 → 〈2〉
 ウ 〈2〉 → 〈1〉 → 〈3〉 → 〈4〉 エ 〈4〉 → 〈2〉 → 〈3〉 → 〈1〉

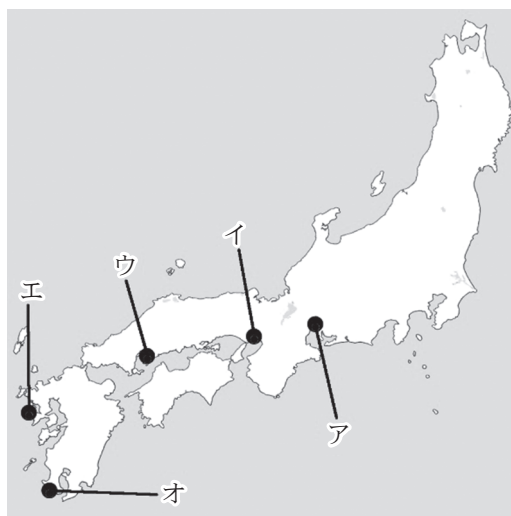
問 2 史料中の下線部②について、「この世をば わが世とぞ思もちづきう 望月の かけたる事も 無しと思へば」と、みずからの権力の絶頂ぜつちようをうたったのはだれか答えなさい。

問 3 史料中の下線部③について、以下の問いに答えなさい。

(1) のちに安徳天皇の祖父となり権力をにぎる平清盛が、1167年に武士として初めてついた役職やくしよくは何か。次から1つ選び、記号で答えなさい。

- ア 征夷大將軍 イ 太政大臣 ウ 摂政 エ 関白

(2) 平清盛が中国との貿易のために整備した大輪田泊とまりの場所を、下の図のア～オより1つ選び、記号で答えなさい。



問 4 史料中の下線部④について、1086年に子の堀河天皇に天皇の地位を譲り、自らは上皇となつて大きな権力を握つた はだれか答えなさい。

問 5 史料中の下線部⑤について、1221年に起きた承久の乱の前と後では、どのような変化があったか。「権力」という言葉を必ず使用して答えなさい。

問 6 史料中の下線部⑥について、以下の問いに答えなさい。

(1) 1404年に3代将軍足利義満が始めた、明との貿易の特徴を1つ答えなさい。

(2) 1467年に起きた「応仁の乱」に関する説明として、正しいものを次から1つ選び、記号で答えなさい。

ア 8代将軍足利義昭の弟足利義視と、義昭の妻である北条政子とのあいだで起きた将軍のあとつぎ争いに、幕府の実力者である細川勝元と山名持豊らの争いが結びついて起きた。

イ 京都が戦場となつたため、貴族や僧は戦乱をさけて日本各地に避難した。そのため、京都の文化が地方へ広まり、今日の日本文化の基礎が生まれた。

ウ 京都市内で戦が行われたため、身軽な装備の足軽ではなく騎馬を用いた戦が多く行われた。

エ この時期は、能を確立した観阿弥・世阿弥が保護されるなど、貴族と武士の文化が混ざつた北山文化が生まれた。

問 7 史料中の下線部⑦について、豊臣氏の出来事をまとめた表を見て、以下の問いに答えなさい。

年	出来事
1582	本能寺の変で織田信長が自殺する。
1583	大阪城の築城を開始する。
1585	関白となる。
1586	太政大臣となる。
1588	刀狩を行う。
1590	天下を統一する。
1591	身分統制令を出す。
1592	朝鮮に出兵する。
1597	再び朝鮮に出兵する。

(1) 大阪城は一向宗（浄土真宗）の中心となった寺の跡地に築城されたが、この寺を何というか。次から1つ選び、記号で答えなさい。

ア 東大寺 イ 薬師寺 ウ 石山本願寺 エ 清水寺

(2) 2度にわたる朝鮮出兵は当時の元号からどのように呼ばれるか。次から1つ選び、記号で答えなさい。

ア 承平の乱・天慶の乱 イ 文禄の役・慶長の役
ウ 保元の乱・平治の乱 エ 文永の役・弘安の役

問 8 史料中の下線部⑧について、以下の問いに答えなさい。

(1) 江戸時代の外国との関係について、正しくないものを次から1つ選び、記号で答えなさい。

ア オランダと清は長崎でのみ貿易をすることを許された。
イ 朝鮮とは対馬を通じて交流し、将軍がかわるごとに朝鮮から通信使が来日した。
ウ 薩摩藩は琉球王国の支配を幕府から認められ、琉球王国は幕府へ使いを送った。
エ バテレン追放令が出され、キリスト教の宣教師が日本から追放された。

(2) 江戸時代の改革 A～D を行った人物の組み合わせとして正しいものを次から1つ選び、記号で答えなさい。

A：公正な裁判を行うため、それまでに^{くじかた}出された法令をまとめて裁判の基準となる公事方^{おさだめがき}御定書をつくった。
B：幕府の学校では朱子学（^{しゅしがく}儒学）以外の^{じゅがく}学問を禁じた。
C：物の値段が激しく上がった原因を、^{かぶなかま}株仲間による独占にあるとして、^{かぶなかま}株仲間の^{かいさん}解散を命じた。
D：幕府の財政を安定させるために、商人の^{かぶなかま}経済力を利用することを考え、商人に^{かぶなかま}株仲間の結成をすすめ、税を集めた。

ア A：徳川吉宗 B：松平定信 C：水野忠邦 D：田沼意次
イ A：水野忠邦 B：田沼意次 C：徳川吉宗 D：松平定信
ウ A：松平定信 B：水野忠邦 C：田沼意次 D：徳川吉宗
エ A：田沼意次 B：徳川吉宗 C：松平定信 D：水野忠邦

3 次の文章を読み、あとの問いに答えなさい。

2019年6月29日、①米大統領のトランプ氏は②主要20カ国・地域首脳会議閉幕後に行った会見の冒頭で、「私は今から韓国へと向かう。我々は【 A 】氏と会うかもしれない。【 A 】氏はとても前向きだ」と述べ、自ら③DMZでの会見について言及した。

これまでの長い歴史の中で、アメリカの現職大統領として北朝鮮に足を踏み入れたのは、トランプ氏が初めてだ。トランプ氏に同行した④韓国の大統領は「トランプ大統領の大胆な提案により、歴史的な対面が実現した。大統領の果敢で独創的なアプローチに敬意を表す」と称えた。

トランプ大統領は、対北朝鮮への安全保障政策の単なる転換ではなく、2020年11月に行われる⑤大統領選を意識して行動しているのであろうか。先進国の中で、唯一着々と⑥人口を増やし、成長と発展を続けるアメリカが世界に与える影響は計り知れないものがある。

(時事ドットコム2019年6月30日 一部改編)

問 1 下線部①について、アメリカの大統領が「三選禁止」の理由を次から1つ選び、記号で答えなさい。

- ア 選挙区の改正により、選挙の平等性が失われてしまうため。
- イ アメリカ議会の議長の任期との関係性を考慮しているため。
- ウ アメリカは連邦制であり、各州が独自の権限を持っているため。
- エ 大統領に権力が集中し、政治が独裁的になるのを防止するため。

問 2 下線部②について、この会議が開かれた場所を次から1つ選び、記号で答えなさい。

- ア 北海道
- イ 東京都
- ウ 大阪府
- エ 沖縄県

問 3 【 A 】に当てはまる、北朝鮮の最高指導者の名前をフルネーム（カタカナでも可）で答えなさい。

問 4 下線部③について、これが意味するものを次から1つ選び、記号で答えなさい。

- ア 非衝突地帯
- イ 非核兵器地帯
- ウ 非戦闘地帯
- エ 非武装地帯

問 5 下線部④について、近年の歴代韓国大統領の正しい就任順を示したものはどれか。次から1つ選び、記号で答えなさい。

- ア のむひょん 盧武鉉 → ぼくくね 朴槿恵 → いみよんぼく 李明博 → むんじえいん 文在寅
 イ 盧武鉉 → 文在寅 → 李明博 → 朴槿恵
 ウ 盧武鉉 → 朴槿恵 → 文在寅 → 李明博
 エ 盧武鉉 → 李明博 → 朴槿恵 → 文在寅

問 6 下線部⑤について、現在アメリカの大統領は二大政党のいずれかから出ているが、二大政党制の長所を説明しなさい。

問 7 下線部⑥について、以下の問いに答えなさい。

(1) 2019年現在のアメリカのおよその人口を次から1つ選び、記号で答えなさい。

- ア 1億5000万人 イ 2億8000万人 ウ 3億2000万人 エ 4億1000万人

(2) 次のグラフの空らんには当てはまる正しい組み合わせを次から1つ選び、記号で答えなさい。

【アメリカの総人口における人種の割合】

2014年

(A)	(B)	(C)	(D)	その他
62.2%	17.4%	12.4%	5.2%	2.9%

2060年

(A)	(B)	(C)	(D)	その他
43.6%	28.6%	13.0%	9.1%	5.7%

(アメリカ国勢調査より)

- ア A：黒人 B：ヒスパニック C：白人 D：アジア系
 イ A：白人 B：黒人 C：アジア系 D：ヒスパニック
 ウ A：黒人 B：白人 C：ヒスパニック D：アジア系
 エ A：白人 B：ヒスパニック C：黒人 D：アジア系

以下余白

